

Première Partie :
La mesure en chimie
Unité 5
5 H

Conductimétrie

قياس الموصلية



1^{er} Bac Sciences
Chimie


I – Conductance d'une solution électrolytique :

1 – Nature de courant électrique dans les solutions électrolytiques : 1-1 – Activité :

On met dans un tube de forme U un mélange de solution aqueuse de sulfate de cuivre II ($Cu^{2+} + SO_4^{2-}$) (figure 1) et la solution aqueuse de dichromate de potassium acidifiée ($2K^+ + Cr_2O_7^{2-}$) (figure 2).

On émerge deux électrodes de graphite à chaque extrémité du tube et on les connecte à un générateur électrique.

Au bout d'une durée, on remarque l'apparition d'une couleur orange à côté de l'anode (l'électrode associée au pôle positif du générateur), et la couleur bleu à côté de la cathode (l'électrode associée au pôle négatif du générateur).



a- Quelles sont les espèces chimiques qui permettent de conduire l'électricité dans la solution ?

Les espèces chimiques qui permettent au courant électrique de traverser la solution sont les ions : K^+ et Cu^{2+} et $Cr_2O_7^{2-}$ et SO_4^{2-} et H^+ .

b- Quelle est l'espèce chimique responsable de la couleur bleu à côté de la cathode ?

Les ions Cu^{2+} sont caractérisés par la couleur bleu.

c- Quelle est l'espèce chimique responsable de la couleur orange à côté de l'anode ?

Les ions $Cr_2O_7^{2-}$ sont caractérisés par la couleur orange.

d- Déterminer l'élément chimique qui s'est déplacé vers la cathode et vers l'anode.

L'apparition de la couleur bleu à côté de la cathode indique que les ions Cu^{2+} sont déplacés vers la cathode, et l'apparition de la couleur orange à côté de l'anode indique que les ions $Cr_2O_7^{2-}$ sont déplacés vers l'anode.

e- déduire la nature du courant électrique dans les électrolytes.

Le courant électrique dans les électrolytes est le double déplacement des ions.

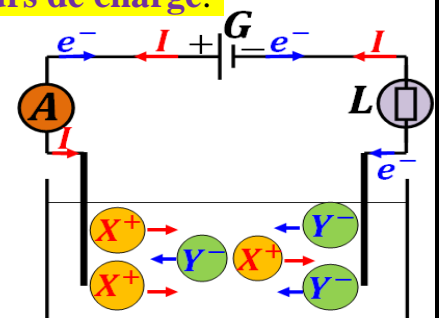
Les cations se déplacent selon le sens conventionnel du courant électrique et les anions dans le sens inverse.

1-2 – Résumé :

Le courant électrique produit par le déplacement de porteurs de charge.

⊕ Dans les métaux : est un déplacement des électrons libres dans le sens opposé du sens conventionnel.

⊕ Dans les électrolytes : est un double déplacement des cations dans le sens conventionnel et des anions dans le sens opposé du sens conventionnel.



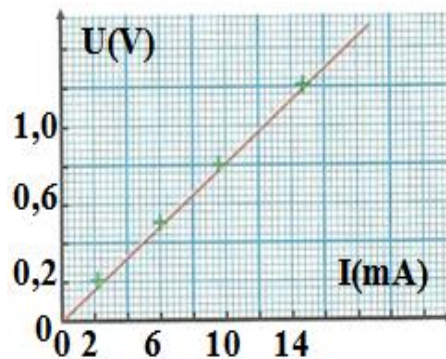
2 – La loi d'Ohm dans les solutions électrolytiques :

2-1 – Activité :

On réalise le montage expérimental ci-contre où le bécher contient la solution de chlorure de sodium et les électrodes sont parallèles et complètement immergées dans la solution. On applique une tension alternative sinusoïdale de sorte que nous enregistrons différentes valeurs de la tension efficace U et de l'intensité de courant I correspondante, et on obtient les résultats suivants :



14,4	10	6,4	2,4	0	$I(\text{mA})$
1,2	0,8	0,44	0,2	0	$U(\text{V})$



a- Tracer la courbe de la variation de U en fonction de I . Voir ci-contre.

b- Que concluez-vous ? La loi d'Ohm est-elle validée pour la solution électrolytique ?

La courbe est une fonction linéaire. Alors, on conclut que la tension U et l'intensité de courant I sont proportionnelles, ce qui indique que la solution électrolytique vérifie la loi d'Ohm.

2-2 – Résumé :

Dans une portion d'une solution électrolytique entre deux plaques, la tension U et l'intensité de courant I traverser la solution subir la loi d'Ohm, qui s'exprime :

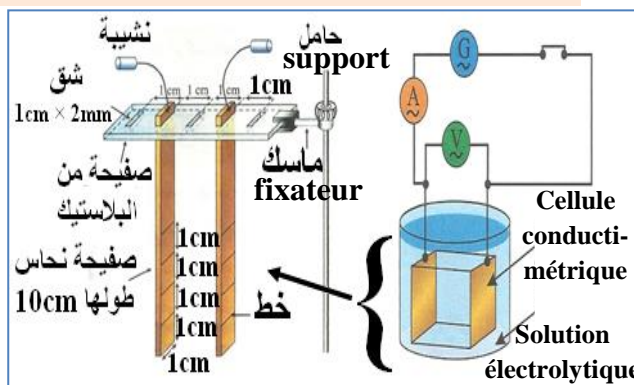
$U = R \cdot I$ ou $I = G \cdot U$ où $S \leftarrow G = \frac{1}{R} \rightarrow \Omega$ la Conductance de la portion de la solution électrolytique est l'inverse de la résistance.

3 – Les facteurs influençant la conductance d'une solution :

3-1 – Facteurs associés à la cellule conductimétrique :

La cellule conductimétrique est constituée de deux plaques planes et parallèles de même surface, séparées par la distance L .

On fixe les deux plaques à une distance de $L = 1 \text{ cm}$ et on les place dans un bécher contenant 500 mL de solution de chlorure de sodium de $C = 10^{-3} \text{ mol} \cdot \text{L}^{-1}$ puis on réalise le montage expérimental ci-contre.



■ On change la surface S immergée dans la solution en déplaçant la position du fixateur sur le support et en mesurant la tension efficace U et l'intensité de courant I à chaque position, on obtient les résultats suivants :

a- Compléter le tableau. Que concluez-vous ?

Voir ci-contre. On remarque que la Conductance G augmente si on augmente la surface S immergée en raison du nombre croissant d'ions capables de se déplacer d'une électrode à l'autre.

$S(\text{cm}^2)$	1	2	3	4
$G(\mu\text{S})$	137	280	415	545
$\frac{G}{S}$ (SI)	1,4	1,4	1,4	1,4

■ On Règle la hauteur des électrodes de sorte que la surface immergée reste $S = 1 \text{ cm}^2$ et on change la distance L entre les deux plaques en choisissant deux fissures (شقين) appropriés, on obtient les résultats suivants :

Physique - chimie

Chimie

Conductimétrie

b- Compléter le tableau. Que **concluez**-vous ?

Voir ci-contre . On remarque que la

Conductance G diminue avec

l'augmentation de la **distance L** en raison du

nombre croissant d'espèces chimiques capables de **bloquer** le **déplacement** des **ions** d'une **électrode** à l'autre.


L(cm)	1	2	3	4
G(μS)	137	70	44	34
G\timesL (10^{-6} SI)	1,4	1,4	1,4	1,4

Conclusion : La **Conductance G** d'une **portion** d'une **solution électrolytique** entre **deux plaques** dépend de la **surface S** immergée et de la **distance L** où :

- La **Conductance G augmente** quand la **surface S immergée augmente**.
- La **Conductance G augmente** quand la **distance L diminue**.
- La **Conductance G dépend** de l'état de la **surface des électrodes** (propre, sale, rugueux).

3-2 - Facteurs associés aux caractéristiques de la solution :

■ On maintient les **dimensions géométriques** de la **cellule conductimétrique** **fixes** et on mesure la **Conductance G** d'une **solution de chlorure de sodium** de **$C = 10^{-1} mol.L^{-1}$** à **deux températures différentes**, on obtient les **résultats suivants** :



a- Comment la **température influence-t-elle** la **Conductance G** ?

$\theta(^{\circ})$	9,2	18,7
G (μS)	24,7	35,4

On remarque que la **Conductance G augmente** avec **l'augmentation** de la **température** car plus la **température** est **élevée**, plus les **ions** se **déplacent rapidement**.

■ On mesure la **Conductance G** de **solutions de chlorure de sodium** de **différentes concentrations**, on obtient les **résultats suivants** :

b- Comment la **concentration de la solution influence-t-elle** la **Conductance G** ?

10^{-2}	5.10^{-3}	2.10^{-3}	$C (mol.L^{-1})$
3,2	1,6	0,65	$G (mS)$

On remarque que la **Conductance G augmente** avec **l'augmentation** de la **concentration de la solution** car plus la **concentration** est **élevée**, plus le **nombre d'ions** déplacés entre les **électrodes** est **élevé**.

■ On mesure la **Conductance G** de **différentes solutions de chlorure** de même **concentration $C = 10^{-2} mol.L^{-1}$** , on obtient les **résultats suivants** :

c- Pourquoi la valeur de la **Conductance G** a-t-elle **variée** lors du changement de la **nature** de la **solution** ?

$G (mS)$	Solutions
3,2	$Na^{+}_{(aq)} + Cl^{-}_{(aq)}$
6,2	$Na^{+}_{(aq)} + OH^{-}_{(aq)}$
10,8	$H^{+}_{(aq)} + Cl^{-}_{(aq)}$

On remarque que la **Conductance G varie** selon la **nature** des **ions présents** dans la **solution**. Par exemple, la **solution de chlorure de sodium** et la **solution d'hydroxyde de sodium** se **diffèrent** par **leurs anions**, ce qui provoque leur **conductivité différente**.


Conclusion :

- La **Conductance G augmente** avec **l'augmentation** de la **température** .
- La **Conductance G augmente** avec **l'augmentation** de la **concentration de la solution**, c'est-à-dire **$G = \alpha.C$** .
- La **Conductance G dépend** de la **nature** du **soluté**, c'est-à-dire la **nature** des **ions** présents dans la **solution**.

II-Détermination de la concentration de la sol ionique par la conductimétrie:

1 – Activité :

On réalise le montage expérimental ci-contre où on verse dans le bécher une solution de chlorure de sodium de différentes concentrations et on mesure la Conductance G de cette solution, on obtient les résultats suivants :



5	4	3	2	1	C (mmol.L ⁻¹)
1,75	1,40	1,05	0,70	0,35	G (mS)

On verse $V = 5 \text{ mL}$ du sérum physiologique (solution de chlorure de sodium diluée) dans une fiole jaugée de 500 mL et on ajoute l'eau distillée jusqu'à ce que le liquide atteigne le trait de jauge, puis on met la solution obtenue dans le bécher et on mesure sa Conductance G qui vaut $G = 1,25 \text{ mS}$.

a- Tracer la courbe d'étalonnage $G = f(C)$.

Voir ci-contre .

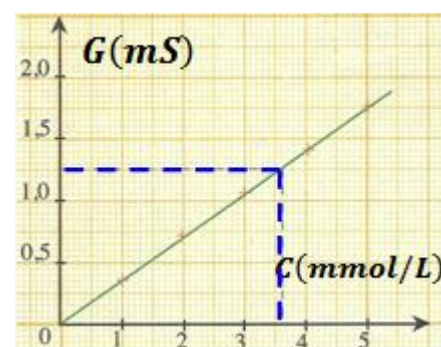
b- Déterminer la valeur du coefficient de dilution du sérum physiologique ? Quel est le but de la dilution ?

D'après la relation de dilution, on a $C_i \cdot V_i = C_f \cdot V_f$.

Alors, le coefficient de dilution : $\alpha = \frac{V_f}{V_i} = \frac{500}{5} = 100$

Nous faisons la dilution parce que nous observons que la

courbe d'étalonnage $G = f(C)$ ne reste linéaire que pour les solutions diluées.



c- A l'aide de la courbe d'étalonnage $G = f(C)$, déterminer la concentration de la solution de chlorure de sodium préparée à partir du sérum physiologique puis en déduire la concentration de la solution de chlorure de sodium dans le sérum physiologique.

On a $G = 1,25 \text{ mS}$. Et à l'aide de la courbe d'étalonnage, on trouve que la concentration correspondante de cette valeur est $C_f = 3,6 \text{ mmol.L}^{-1}$.

Ainsi, la concentration de la solution de chlorure de sodium dans le sérum physiologique est $C_i = \alpha \cdot C_f = 100 \times 3,6 \cdot 10^{-3} = 0,36 \text{ mol.L}^{-1}$.

2 – La courbe d'étalonnage $G = f(C)$:

On effectue la mesure de la conductance de différents échantillons (de concentrations connues) d'une solution électrolytique du même type de solution électrolytique inconnue « d'une concentration inconnue », puis on trace la courbe $G = f(C)$ appelée courbe d'étalonnage.

On effectue la mesure de la conductance de la solution inconnue, et à l'aide de la courbe d'étalonnage, on détermine sa concentration.

3 – Les limites d'utilisation d'une courbe d'étalonnage $G = f(C)$:

Pour déterminer la concentration d'une solution à l'aide de la courbe d'étalonnage, il faut que :

- ⊕ La solution contient un seul solvant.
- ⊕ Tous les autres facteurs soit fixe.
- ⊕ la concentration inconnue soit dans le domaine des concentrations utilisées $C < 1,5 \cdot 10^{-2} \text{ mol.L}^{-1}$.

III- La conductivité d'une solution électrolytique :**1 – Définition :**

Puisque la **Conductance** G d'une portion d'une solution électrolytique est **proportionnelle** avec la **surface** S immergée des électrodes et est **inversement proportionnelle** à la **distance** L entre elles, on peut écrire : $S \leftarrow G = \sigma \cdot \frac{S}{L}$ $\begin{matrix} \rightarrow m^2 \\ \rightarrow m \end{matrix}$

Où σ : la **conductivité d'une solution électrolytique** et son unité dans (SI) est $S \cdot m^{-1}$.

Remarque :

Le rapport $\frac{S}{L}$ est une **grandeur** qui caractérise la **cellule conductimétrique** appelée **constante de cellule** et son unité est m .

La **Conductance** G ne caractérise pas la **solution**, elle dépend de la **portion** de la **solution électrolytique** entre les deux **plaques cellulaires**.

Mais, la **conductivité** σ caractérise la **solution**, et qui traduit la **capacité** de la **solution à conduire le courant électrique**. C'est une l'un des **propriétés** de la **solution directement mesurables** par un appareil appelé **conductimètre**.

2 – la conductivité et la concentration d'une solution :

Pour les solutions diluées, on a $G = \alpha \cdot C$ et $G = \sigma \cdot \frac{S}{L} = K \cdot \sigma$

Donc $\sigma = \left(\alpha \cdot \frac{L}{S}\right) \cdot C = \lambda \cdot C$ Où λ : la **conductivité molaire de la solution**.

IV- La Conductivité molaire ionique :**1 – Définition :**

Chaque **ion** dans une **solution** se caractérise par sa **taille**, sa **charge** et **leur état de solvation** (pour les **solutions aqueuses**), ce qui le **différencie** des **autres types** des **espèces chimiques** qui se trouve dans la **solution** en termes de **capacité à conduire de l'électricité**. Cette **capacité** est exprimée par une **grandeur physique** appelée **conductivité molaire ionique** λ_X et son unité dans (SI) est $S \cdot m^2 \cdot mol^{-1}$.

2 – la conductivité d'une solution et la conductivité molaire ionique :

Le **passage du courant électrique** dans une **solution électrolytique** est dû au **double déplacement** des **ions**.

On admet que σ^+ est dû aux **cations** et σ^- est dû aux **anions**.

On considère que la **conductivité** σ de la **solution** est la **somme** des deux **conductivité** σ^+ et σ^- , alors on écrit : $\sigma = \sigma^+ + \sigma^-$.

La **conductivité** σ^- est **proportionnelle** à la **concentration effective des anions**, alors on écrit : $\sigma^- = \lambda_{X^-} \cdot [X^-]$.

La **conductivité** σ^+ est **proportionnelle** à la **concentration effective des cations**, alors on écrit : $\sigma^+ = \lambda_{Y^+} \cdot [Y^+]$.

Ainsi, la **conductivité** σ d'une **solution électrolytique** composée de **cations** Y^+ et d'**anions** X^- s'écrit comme suit :

$$\sigma = \sum_{i=1}^n \lambda_{X_i} \cdot [X_i] = \lambda_{X^-} \cdot [X^-] + \lambda_{Y^+} \cdot [Y^+]$$

λ (S.m ² .mol ⁻¹)	Anions	λ (S.m ² .mol ⁻¹)	Cations
2,0 x 10 ⁻²	HO ⁻ (aq)	3,5 x 10 ⁻²	H ⁺ (aq)
7,8 x 10 ⁻³	Br ⁻ (aq)	7,4 x 10 ⁻³	K ⁺ (aq)
7,7 x 10 ⁻³	I ⁻ (aq)	7,4 x 10 ⁻³	NH ₄ ⁺ (aq)